

ĐỀ KIỂM TRA CUỐI TUẦN 18. ĐỀ 2

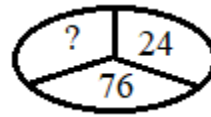
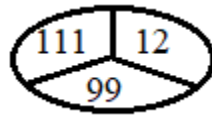
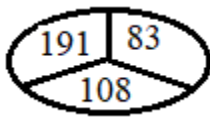
MÔN: TOÁN 3

Phần I. Trắc nghiệm (3 điểm). Khoanh vào chữ cái đặt trước câu trả lời đúng nhất:

Câu 1: Cho số bé là 5, số lớn là 35. Hỏi số lớn gấp mấy lần số bé?

- A. 8 lần B. 7 lần C. 6 lần D. 5 lần

Câu 2: Điền số thích hợp vào dấu “?”:



- A. 108 B. 99 C. 76 D. 100

Câu 3: Tính: $930 - 18 \div 3 = ?$

- A. 924 B. 304 C. 612 D. 912

Câu 4: Hình chữ nhật có bao nhiêu góc vuông?

- A. 1 B. 2 C. 3 D. 4

Câu 5: Điền số thích hợp vào chỗ chấm: $9\text{m } 8\text{cm} = \dots\dots\dots \text{cm}$

- A. 98 B. 908 C. 980 D. 9080

Câu 6: Một hình chữ nhật có chiều rộng 6cm. Chiều dài hơn chiều rộng 7cm. Hỏi chu vi hình chữ nhật là bao nhiêu cm?

- A. 38cm B. 19cm C. 13cm D. 42cm

Phần II. Tự luận (7 điểm)

Câu 1: Tìm x biết:

a, $90 \div (x + 7) = 6$

b, $(x + 24) \div 5 = 83$

Câu 2: Có 750 quyển sách xếp đều vào 5 tủ, mỗi tủ có 2 ngăn. Hỏi mỗi ngăn có bao nhiêu quyển sách? Biết mỗi ngăn có số sách là như nhau.

Câu 3: Một cửa hàng nhập về 168 tấn gạo, chia đều vào 3 kho. Sau đó, cửa hàng nhập thêm vào mỗi kho 16 tấn gạo và bán hết số gạo trong 2 kho. Hỏi cửa hàng đã bán được bao nhiêu tấn gạo?

HƯỚNG DẪN CHẤM BÀI VÀ BIỂU ĐIỂM

Phần I. Trắc nghiệm (3 điểm)

Mỗi câu đúng được 0,5 điểm:

Câu	1	2	3	4	5	6
Đáp án	B	D	A	C	B	A

Phần II. Tự luận (7 điểm)

Câu 1 (2 điểm): Tìm x biết:

$$a, 90 \div (x + 7) = 6$$

$$x + 7 = 90 \div 6$$

$$x + 7 = 15$$

$$x = 15 - 7$$

$$x = 8$$

$$b, (x + 24) \div 5 = 83$$

$$x + 24 = 83 \times 5$$

$$x + 24 = 415$$

$$x = 415 - 24$$

$$x = 391$$

Câu 2 (2 điểm):

Số ngăn sách có là:

$$5 \times 2 = 10 \text{ (ngăn)}$$

Mỗi ngăn có số quyển sách là:

$$750 \div 10 = 75 \text{ (quyển)}$$

Đáp số: 75 quyển sách

Câu 3 (3 điểm):

Ban đầu mỗi kho có số gạo là:

$$168 \div 3 = 56 \text{ (tấn)}$$

Sau khi cửa hàng nhập thêm vào mỗi kho 16 tấn.

Mỗi kho có số gạo là:

$$56 + 16 = 72 \text{ (tấn)}$$

Cửa hàng đã bán được số tấn gạo là:

$$72 \times 2 = 144 \text{ (tấn)}$$

Đáp số: 144 tấn gạo